

第40期前期プロテスト①

【 1 】 次の牌姿の点数を答えなさい。 (各1点)

日本プロ麻雀連盟公式ルール、東1局0本場(子は南家)、リーチ、ドラはないものとする。

1)

親 ツモ オール	親 ロン	子 ツモ ,	子 ロン
--------------	-------	------------	-------

親 ツモ オール	親 ロン	子 ツモ ,	子 ロン
--------------	-------	------------	-------

親 ツモ オール	親 ロン	子 ツモ ,	子 ロン
--------------	-------	------------	-------

2)

親 ツモ オール	親 ロン	子 ツモ ,	子 ロン
-------------	------	-----------	------

3)

親 ツモ オール	親 ロン	子 ツモ ,	子 ロン
-------------	------	-----------	------

4)

親 ツモ オール	親 ロン	子 ツモ ,	子 ロン
-------------	------	-----------	------

5)

親 ツモ オール	親 ロン	子 ツモ ,	子 ロン
-------------	------	-----------	------

6)

親 ツモ オール	親 ロン	子 ツモ ,	子 ロン
-------------	------	-----------	------

7)

親 ツモ オール	親 ロン	子 ツモ ,	子 ロン
-------------	------	-----------	------

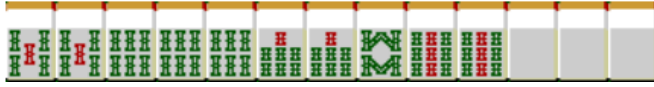
8)

親、嶺上開花ツモ オール	親 ロン	子、嶺上開花ツモ ,	子 ロン
-----------------	------	---------------	------

【 1 】 次の牌姿の時、待ちとなる牌を答えなさい。(各3点)

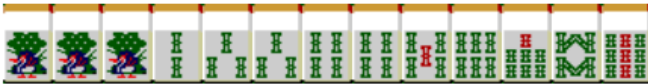
※答えは数の小さいものから順に記入すること、自分で4枚持っている牌は待ちには含まない

1)



Blank box for answer 1

2)



Blank box for answer 2

3)



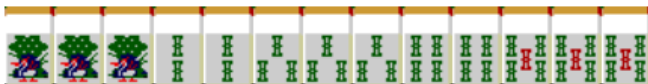
Blank box for answer 3

4)



Blank box for answer 4

5)



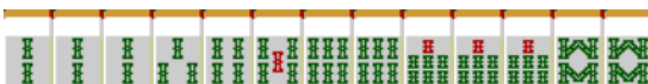
Blank box for answer 5

6)



Blank box for answer 6

7)



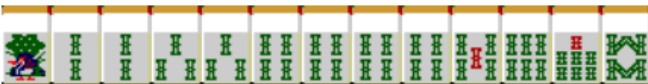
Blank box for answer 7

8)



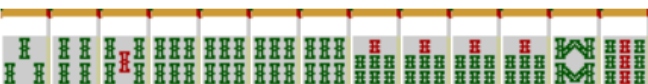
Blank box for answer 8

9)



Blank box for answer 9

10)



Blank box for answer 10

【 1 】 下記の条件問題を答えよ

以下は王位戦の決勝戦の最終戦である。

※実際に存在するアガリ点で答えること(80符以上は出ないものとする)

※同点では優勝できないものとし、条件を満たす、一番小さいアガリ点で答えること。

最終戦までの成績

A +3.2 B +1.6 C +1.5 D Δ 6.3

最終戦 南4局 3本場 供託2000点

A東家 43400 B南家 9600 C西家 22500 D北家 42500

1) 南4局が全員ノーテンで終了した場合のトータルポイントを答えよ (6点)

A _____ B _____ C _____ D _____

2) B・南家の勝ち上がり条件を答えよ (各2点)

Aからの出アガリ _____ Cからの出アガリ _____

Dからの出アガリ _____ ツモアガリ _____

3) C・西家の勝ち上がり条件を答えよ (各2点)

Aからの出アガリ _____ Bからの出アガリ _____

Dからの出アガリ _____ ツモアガリ _____

4) D・北家の勝ち上がり条件を答えよ (各2点)

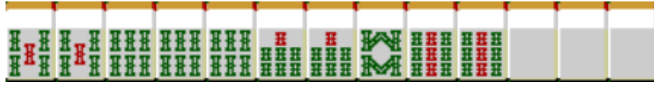
Aからの出アガリ _____ Bからの出アガリ _____

Cからの出アガリ _____ ツモアガリ _____

【 1 】 次の牌姿の時、待ちとなる牌を答えなさい。(各3点)

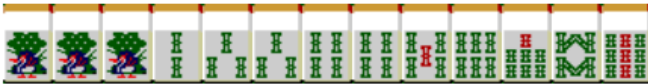
※答えは数の小さいものから順に記入すること、自分で4枚持っている牌は待ちには含まない

1)



4 7 8

2)



2 3 5 6 9

3)



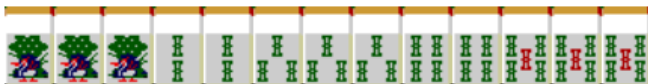
1 2 3 4 6 7 9

4)



4 6 7 8

5)



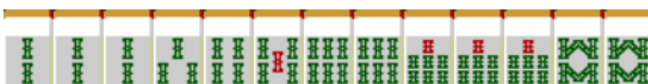
1 2 3 4 5

6)



1 4 5 8

7)



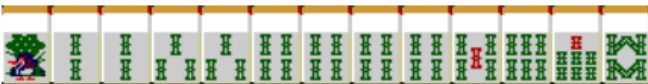
6 7 8 9

8)



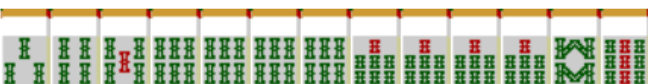
4 5 6 8 9

9)



2 3 5 6 8 9

10)



2 3 5 8 9

【 1 】 下記の条件問題を答えよ

以下は王位戦の決勝戦の最終戦である。

※実際に存在するアガリ点で答えること(80符以上は出ないものとする)

※同点では優勝できないものとし、条件を満たす、一番小さいアガリ点で答えること。

最終戦までの成績

A +3.2 B +1.6 C +1.5 D Δ6.3

最終戦 南4局 3本場 供託2000点

A東家 43400 B南家 9600 C西家 22500 D北家 42500

1) 南4局が全員ノーテンで終了した場合のトータルポイントを答えよ (6点)

A +24.6 B Δ26.8 C Δ10.0 D +10.2

2) B・南家の勝ち上がり条件を答えよ (各2点)

Aからの出アガリ 32000 Cからの出アガリ 32000

Dからの出アガリ 32000 ツモアガリ 6000 , 12000

3) C・西家の勝ち上がり条件を答えよ (各2点)

Aからの出アガリ 16000 Bからの出アガリ 24000

Dからの出アガリ 24000 ツモアガリ 3000 , 6000

4) D・北家の勝ち上がり条件を答えよ (各2点)

Aからの出アガリ 1600 Bからの出アガリ 3900

Cからの出アガリ 3900 ツモアガリ 600 , 1200